

## TEMAT: OPIS I SIATKA PROSTOPADŁOŚCIANU

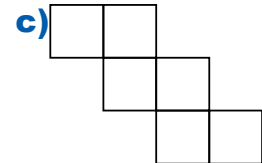
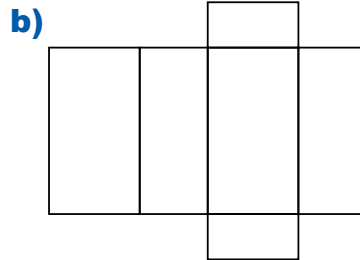
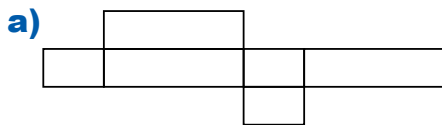
1. **2 p.** Podaj przykłady dwóch przedmiotów, które mają kształt prostopadłościanu.

.....

2. **3 p.** Podkreśl zdania prawdziwe.

- a) Każdy prostopadłościan jest sześcianem.
- b) Każdy prostopadłościan ma sześć ścian.
- c) Sześcian ma 12 równych krawędzi.
- d) Prostopadłościan, który ma cztery równe krawędzie, jest sześcianem.
- e) Niektóre prostopadłościany mają wszystkie ściany jednakowe.

3. **2 p.** Przekreśl rysunek, jeżeli **nie** jest siatką prostopadłościanu.



4. **2 p.** Narysuj siatkę prostopadłościanu o krawędziach: 2 cm, 3 cm, 1 cm. Zamaluj na zielono takie dwie ściany, które po sklejeniu modelu będą prostopadłe.

