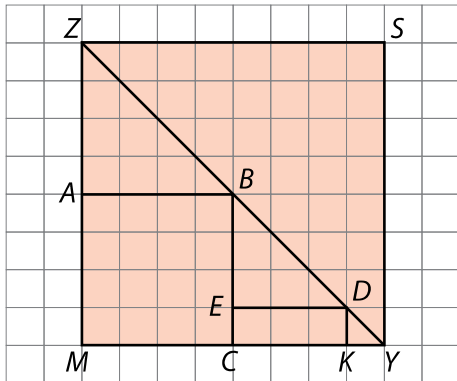


KARTKÓWKA nr 15

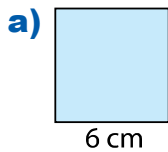
TEMAT: OBWÓD PROSTOKĄTA

1. **4 p.** Jeżeli zdanie jest prawdziwe, w okienko wpisz literę P, jeżeli fałszywe – literę F.

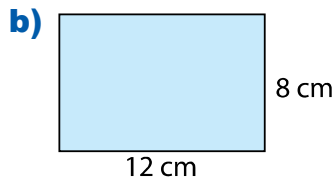


- a) Na rysunku są trzy trójkąty, z których jeden to trójkąt *KDE*.
- b) Na rysunku są cztery prostokąty.
- c) Prostokąt *MCBA* jest kwadratem.
- d) Obwód kwadratu *MYSZ* jest cztery razy krótszy od obwodu kwadratu *MCBA*.

2. **4 p.** Oblicz obwód prostokąta przedstawionego na rysunku.




Obwód =



Obwód =

3. **3 p.** Narysuj prostokąt o wymiarach 30 mm i 20 mm. Oblicz, ile centymetrów ma obwód tego prostokąta.



4. **3 p.** Jeden bok prostokąta ma 7 m. Drugi bok jest 2 razy dłuższy. Oblicz:

- a) długość drugiego boku prostokąta
- b) obwód prostokąta

5. Obwód prostokąta jest równy 26 cm. Szerokość prostokąta jest o 3 cm krótsza od jego długości. Oblicz wymiary tego prostokąta.

Odpowiedź.