

Klasówka nr 4 - trening


TEMAT: SKALA I PLAN. DIAGRAMY.

1. **3 p.** Narysuj prostokąt o bokach 4 cm i 2 cm, a następnie narysuj go w skali 1 : 4.




2. **2 p.** Narysowano plan działki w skali 1 : 1000. Na planie szerokość działki jest równa 5 cm, a długość 6 cm. Jakie są rzeczywiste wymiary tej działki?


3. **2 p.** Tarcza strzelecka ma kształt koła o promieniu długości 50 cm. Oblicz długość promienia tej tarczy na planie w skali 1 : 20.



4. **3 p.** Działka ma kształt kwadratu o boku 50 m. Na planie jest to kwadrat o boku 10 cm. Oblicz, w jakiej skali narysowano ten plan.



5. **3 p.** . Odległość z Chocza do Pleszewa w linii prostej to ok. 10 km. Ile to cm na mapie wykonanej w skali 1:100000?



9. **4 p.** Na diagramie podano liczbę osób zwiedzających muzeum w ciągu wybranego tygodnia.

- Ile osób odwiedziło muzeum w środę, a ilu w piątek?
- W którym dniu tygodnia muzeum jest zwiedzane najczęściej?
- Ile osób odwiedziło to muzeum w tygodniu?
- Jak myślisz, dlaczego w poniedziałek nikt nie zwiedzał muzeum?

