

# NA DOBRY START – ZADANIA WPROWADZAJĄCE

## Mnożenie liczb

## karta pracy 4

**1** Oblicz w pamięci.

a)  $3 \cdot 8 =$

$5 \cdot 9 =$

$4 \cdot 6 =$

$7 \cdot 8 =$

b)  $2 \cdot 9 =$

$7 \cdot 6 =$

$4 \cdot 8 =$

$1 \cdot 4 =$

c)  $6 \cdot 0 =$

$8 \cdot 6 =$

$5 \cdot 7 =$

$9 \cdot 3 =$

**2** Połącz każde działanie z odpowiednim wynikiem.

$3 \cdot 8$

$70 - 46$

$9 \cdot 4$

$83 - 35$

$6 \cdot 8$

24

48

36

$19 + 29$

$6 \cdot 4$

$6 \cdot 6$

$18 + 18$

$48 \cdot 1$




**3** Ile opakowań soku jest na rysunku? Pod każdym rysunkiem zapisz działanie w postaci dodawania, a następnie w postaci mnożenia, i oblicz.

a)   $4 + 4 = 2 \cdot 4 = 8$

b) 

c) 

- 4** Wykonaj obliczenia. W miejsce kropek wpisz znak:  $>$ ,  $<$  lub  $=$ .
- a)  $5 \cdot 5 \dots 6 \cdot 4$       b)  $40 - 18 \dots 8 \cdot 3$       c)  $3 \cdot 9 \dots 7 \cdot 4$   
 $4 \cdot 8 \dots 6 \cdot 5$        $6 \cdot 8 \dots 36 + 9$        $8 \cdot 8 \dots 80 - 16$
- 5** Stasia kupiła 5 zeszytów po 4 zł. Ile zapłaciła za zeszyty?
- 6** Pan Robert kupił kosmetyki za 67 zł. Ile otrzymał reszty, jeśli dał sprzedawcy 100 zł?
- 7** Piłeczka tenisowa kosztuje 8 zł. Połącz każde pudełko z piłeczkami z kwotą, którą trzeba za nie zapłacić.



48 zł

56 zł

32 zł

64 zł

46 zł

40 zł

- 8** Zamaluj te prostokąty, w których iloczyn liczb jest równy 24.

$4 \cdot 5$

$3 \cdot 8$

$2 \cdot 12$

$8 \cdot 3$

$4 \cdot 6$

$3 \cdot 7$

$6 \cdot 4$

$8 \cdot 4$

- 9** Agatka rzuciła 4 razy kostką do gry i za każdym razem wyrzuciła 6 oczek. Ile oczek razem wyrzuciła Agatka?
- 10** W czasie wycieczki uczniowie płynęli tratwami. Na każdą tratwę wsiadło 8 osób, a od brzegu odbiło 7 tratw. Ile osób wzięło udział w tej wycieczce?
- 11** Bilet wstępu do muzeum kosztuje 9 zł. Ile trzeba zapłacić za bilety dla 8 osób? Zaznacz poprawną odpowiedź.  
 A. 81 zł      B. 74 zł      C. 72 zł      D. 63 zł
- 12** Wejście na ściankę wspinaczkową kosztuje 8 zł. W ciągu tygodnia Sebastian wszedł na ściankę 4 razy. Ile pieniędzy wydał w tym czasie Sebastian na wchodzenie na ściankę wspinaczkową? Zaznacz poprawną odpowiedź.  
 A. 12 zł      B. 8 zł      C. 32 zł      D. 15 zł
- 13** Siedmioro dzieci rzucało lotkami do celu. Każde dziecko wykonało 8 rzutów. Ile rzutów oddały dzieci razem?